

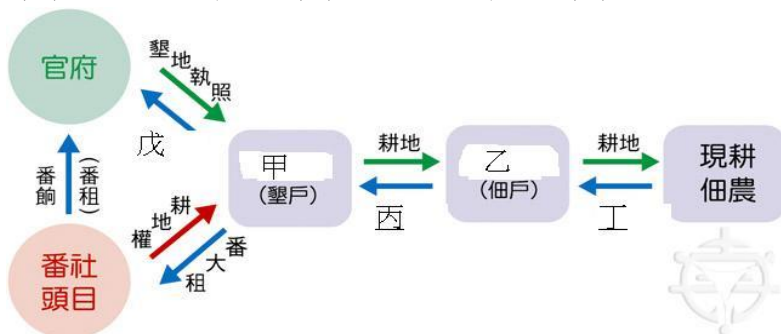
# 國立臺東高級中學 104 學年度第一學期第二次段考高一歷史科題目卷

劃答案卡：是 適用班級：不分組 班級：\_\_\_\_\_ 座號：\_\_\_\_\_ 姓名：\_\_\_\_\_

§答題須知：試卷總共有二個部分，共有七面。第一大題為單選題，答錯不倒扣；第二大題為多重選擇題，答錯要倒扣，請謹慎作答。請把正確答案劃記在答案卡上，並注意個人基本資料的劃記是否正確。

## 一、單選題(每題 2 分，共有 44 題，共 88 分)

- C1. 現象一：「一個某卡贏三仙天公祖」。現象二：「有唐山公，無唐山媽」。現象三：「番兒至老無妻」。下列敘述何者正確：  
(A)現象一造成的原因移民習慣事業有成後才攜眷同往 (B)現象二是指早期臺灣的漢人男性與生番女性結婚 (C)現象三是由現象二造成(D)現象二直到清領前期才改善。
- D2. 婉貞在翻閱臺灣史書籍時，看到下列簡表。下列敘述何者正確？  
(A)甲為小租戶 (B)乙為大租戶 (C)丙為小租 (D)戊為正供。



- B3. 「在此次民變中，領袖建立政權，建元永和，尊為『中興王』，下令兵民奮發恢復明制，有『橫渡大海，會師北伐，飲馬長城』的政治理想。」此次民變是下列哪一事件？  
(A)郭懷一事件 (B)朱一貴事件 (C)林爽文事件 (D)戴潮春事件。
- C4. 港口邊的大街上，人群熙來攘往，偶而夾雜幾位金髮碧眼的外國人。他們走進街旁的商行裡，和商行裡等待交易的茶商討論該地生產即將上市的春茶價格。對面的商家陳列著剛剛由洋船運抵的紡織品，吸引了大批逛街的民眾，爭相詢問款式與價格。這個場景最可能出現在何時何地？  
(A)1800 年，廣州 (B)1840 年，上海 (C)1880 年，淡水 (D)1940 年，天津。
- D5. 「開萬古得未曾有之奇，洪荒留此山川，作遺民世界」、「極一生無可如何之遇，缺憾還諸天地，是創格完人」，試判斷此楹聯產生的時間在何時？是對何人的讚揚？  
(A)道光年間，姚瑩 (B)乾隆末年，福康安 (C)光緒後期，劉永福 (D)光緒初年，鄭成功。
- A6. 清治時期，板橋林家以米鹽茶等致富，在桃園大溪也有不少的產業，是當時臺灣首富。林家在板橋建「林本源園邸」，是臺灣著名的園林建築，堪稱臺灣近代建築史的縮影。下列關於板橋林家的相關敘述，何者正確？ (A)此座園林的建築風格有中國內地的特色 (B)隨文教事業普及，有功名的士紳逐漸取代買辦，成為臺灣新興領導階層 (C)配合沈葆楨的「開山撫番」，經營山地，林家因擔任幫辦，自然可以快速累積財富 (D)清代名人林文察、林朝棟及日治時期林獻堂皆為板橋林家後代。
- B7. 1874 年，在北京簽訂完《北京專約》的日本使節，回日本後便向明治政府提出：「今通過與清國之談判，彼承認我征藩地為義舉，並出銀兩撫恤受害難民，雖似足以表明□屬於我國版圖之實跡，但仍難說兩國分界業已判然，為將來計，期望明治政府藉機在□設置統治機構。」請問□內應填入  
(A)臺灣 (B)琉球 (C)越南 (D)朝鮮。
- A8. 王安國／屏東報導：「南臺灣年度盛事『六堆嘉年華——第四十二屆六堆運動會』，昨天在屏東六堆忠義祠啟動，陳水扁總統應邀主持聖火引燃與忠勇公起駕典禮。預定以六天時間，忠勇公繞境出巡，庇祐六堆鄉里、合境平安，聖火也將傳遞到六堆各個角落，代表薪火相傳、生生不息。」根據上述資料及配合歷史知識，下列選項何者正確？

(A)六堆在清領時代是一種義民組織，即「六隊」之意 (B)曾助清廷平戴潮春、林爽文之亂有功 (C)六堆是由 12 個漳州人城鎮組合而成 (D)六堆的 12 城鎮分布在今屏東縣境內。

B9. 三山國王為台灣早期粵籍移民之守護神，但何以在某些地區卻逐漸為「義民爺」所取代，成為地方之守護神？

(A)地方政府刻意的提倡 (B)對抵抗林爽文而犧牲者的崇敬 (C)人民對孤魂野鬼的畏懼 (D)三山國王廟多遭戰亂破壞。

C10. 臺灣早期移民來臺時，經常發生分類械鬥，規模較大者有六十餘次，在 1853 年時，淡水河發生「頂下郊拼」。請問：下列敘述何者正確？

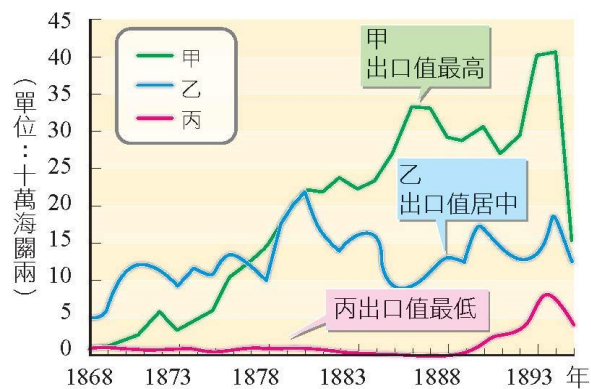
(A)因大稻埕的商業利益引發械鬥 (B)是泉州同安人的頂郊攻擊泉州三邑人的下郊 (C)同安人失敗後轉往大稻埕發展，建立霞海城隍廟(D)開港後大稻埕更因蔗糖更加熱絡，成為北臺灣的商貿中心。

A11. 某位時任船政大臣的官員，緊急被調派前往臺灣籌備防務。他認為發生事故的南部地區應該設縣，全臺應增設行政區劃，更因基隆產煤，「請購外洋開煤機器，以興長利」。請問這位官員是

(A)沈葆楨 (B)丁日昌 (C)劉銘傳 (D)邵友濂。

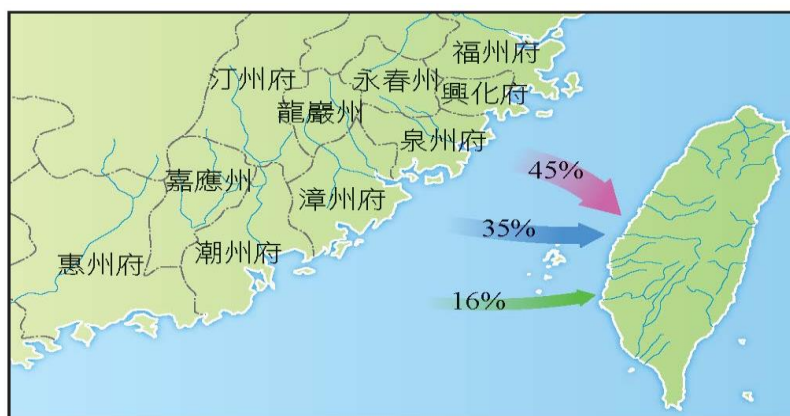
A12. 附圖為開港後，臺灣對外貿易出口總值的數線圖。請問甲、乙、丙各代表哪些商品？

(A)茶葉、蔗糖、樟腦 (B)稻米、蔗糖、茶葉(C)蔗糖、稻米、茶葉 (D)蔗糖、茶葉、樟腦。



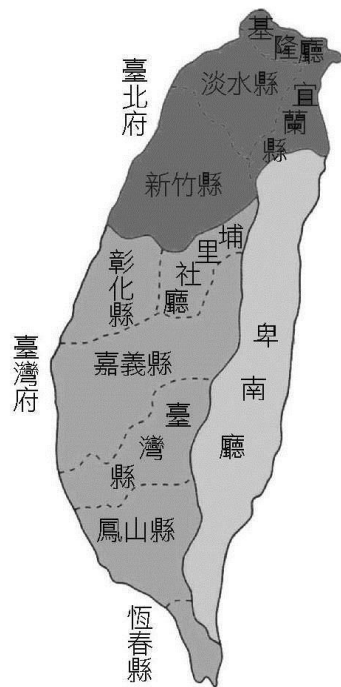
D13. 下圖為臺灣漢人移民圖。請問：箭頭上的百分比代表什麼意思？

(A)班兵來臺比率 (B)清領前期郊商進行兩岸貿易的比率 (C)清代漢人移民在臺灣的分布狀況 (D)清代泉、漳、客三類移民的比率。



B14. 梁同學看到這幅臺灣古早地圖（下圖），不知是何時的行政區圖，你能告訴他正確的時間嗎？

(A)清朝將臺灣歸併之初的地圖 (B)沈葆楨至臺時的行政區圖 (C)劉銘傳擔任臺灣巡撫時的地圖 (D)日治時期的行政區圖。



- B15. 日本人稱他為清代台灣唯一的藝術家，他的書法、墨畫、雕刻皆有可觀，書法尤具特色，筆意輕妙脫俗，如竹葉飄逸有勁，被稱為「竹葉體」，這是  
 (A)謝琯樵 (B)林朝英 (C)沈光文 (D)鄭用錫。
- B16. 「稻江首富」○○○以洋行買辦起家，進而經營茶葉貿易，縱橫商場，被稱為番勢○○○。他成功的秘訣是「不在放膽，而在細心；不在冒險，而在耐久。」上述所論何人？  
 (A)陳福謙 (B)李春生 (C)林占梅 (D)林文察。
- B17. 大德與同學前往學校附近，即位於臺北市大龍峒附近的保安宮進行史蹟考察，試問廟中主祀的神明應是早期泉州同安人所奉祀的何種鄉土神？  
 (A)清水祖師 (B)保生大帝 (C)觀音佛祖 (D)三山國王。
- A18. 有份資料記載：「光緒十二年（1886年）四月正式開始，於南北兩府各設總局，選派三十餘人，分赴各縣，會同地方正紳，先查保甲，就戶問糧，戶畝查明，再行逐田清丈，就田問賦。……光緒十五年始全部清丈給單，溢出原額田數倍，約四百萬畝。」這段資料所陳述的內容是  
 (A)劉銘傳進行清賦工作 (B)丁日昌向朝廷稟報清賦經過 (C)劉銘傳廢除大租戶的過程 (D)沈葆楨招徠開墾者的經過。
- B19. 清廷治臺初期的政策是消極而被動的，故其行政區域的調整亦往往是因事件發生後才有所補強。請問下列臺灣所發生的各事件和行政組織的設立，彼此相關的是下列哪些組合？(A)朱一貴事件：設立淡水廳、諸羅縣 (B)林爽文事件：諸羅縣改名為嘉義縣 (C) 戴潮春事件：鳳山縣 (D)郭懷一事件：設立淡水廳。
- B20. 有一位日本官員曾經針對治理臺灣的方式有以下的言論：「比目魚的眼睛不能改變成赤鬚魚的眼睛嘛。……比目魚的兩隻眼睛長在一邊，在生物學上是因為有其必要，才會這樣……政治上這一點也很重要……不了解這道理而想把日本國內的法制輸入臺灣實施的那些傢伙也就是等於要把比目魚的眼睛突然改變成赤鬚魚的眼睛。」請問：此位官員為何人？  
 (A)乃木希典 (B)後藤新平 (C)樺山資紀 (D)佐久間左馬太。
- C21. 從古物可以看到歷史，下圖中的古物和臺灣歷史有何密切關係？  
 (A)它是清朝統治臺灣期間的紙幣，面值一百錢 (B)它是清廷將臺灣割日時，臺灣民主國所發行面額一百錢的紙幣 (C)它是清廷將臺灣割日後，臺灣民主國所發行面額一百錢的郵票 (D)它是臺灣民主國的旗幟。



- C22. 一群小朋友，在澳底附近的鹽寮海灘參觀一座「抗日紀念碑」，根據你的判斷，這座紀念碑應是在何種背景下設立的？  
(A)紀念因莫那魯道抗日之舉而喪生的原住民 (B)紀念因苗栗事件而被判死刑的民眾 (C)紀念日軍登陸臺灣時奮勇抗日的臺灣人 (D)紀念臺灣民主國在此成立。
- B23. 清朝某官吏上摺，略曰「今欲開山，不先招墾，則路雖通而仍塞；欲招墾不先開禁，則民裹足而不前。」結果臺灣近二百年之封山禁墾，渡臺禁令，至是盡除。請問此官吏是誰？  
(A)唐景崧 (B)沈葆楨 (C)丁日昌 (D)劉銘傳。
- B24. 從經濟發展的角度看臺灣史，從十七世紀以來到 1895 年以前，臺灣歷經了荷據、明鄭、清治三個時期，此期間除了清初海禁，使臺灣與中國大陸的貿易受影響外，中國大陸一直是臺灣主要的貿易對象。但在哪一事件之後，使得臺灣的貿易對象，由中國大陸擴大到以歐美國家為主？  
(A)鴉片戰爭 (B)英法聯軍 (C)甲午戰爭 (D)中法戰爭。
- B25. 下列古蹟：甲、澳底抗外紀念碑 乙、八通關古道 丙、安平古堡 丁、淡水理學堂大書院。依其出現年代的先後順序排列，何者正確？  
(A)丙丁乙甲 (B)丙乙丁甲 (C)甲乙丁丙 (D)丙甲乙丁。
- C26. 19 世紀末，臺灣出現一個新政權，其制定的國旗為「藍地黃虎旗」，但在政權成立後約十日左右政權的領導人即放棄職務，化妝前往廈門，有部分史家認為當天為該政權滅亡之日。請問該領導人是誰？  
(A)劉永福 (B)丘逢甲 (C)唐景崧 (D)邵友濂。



- B27. 臺灣某家族史料寫道：「甲午之役，清廷割棄臺灣，……志士謀獨立，……連戰皆北，……，民益亂無主，潰兵四出，土匪乘發，哭聲滿巷。當地紳商集議彈壓，既無力可制，擬赴日軍求鎮撫，亦無敢往者。先生適事北來，得與其議，見事急乃告奮勇赴基隆請謁日帥。」請問此家族為  
(A)霧峰林家 (B)鹿港辜家 (C)板橋林家 (D)新竹林家。
- A28. 1895 年，臺北城淪陷後，某人不願接受臺灣人民推舉為總統，仍自稱為幫辦。當日軍與桃竹苗義軍戰鬥之時，他派遣使者回中國告急，並拍電報給沿海督撫請求支援，皆無回應。在日軍逼近之後，變裝逃離臺灣。離開臺灣後，軍隊失序，造成臺南城大亂。請問此人是誰？  
(A)劉永福 (B)邵友濂 (C)丘逢甲 (D)唐景崧。
- B29. 臺灣的地名由來多有其歷史背景，下列關於地名由來的敘述，何者正確？  
(A)新北市的五股是在拓墾過程中，移民常以小租戶擁有的「股」為該地之地名 (B)宜蘭的五結是採用結首制的宜蘭等地區，以各「結」順序為新興聚落之地名 (C)臺中的頭家厝地名由來則是指現耕佃人（佃農）的居住地 (D)高雄的左營由來是清代官營駐紮的所在。

- A30. 大頭想做一篇關於「郊」的報告，他打算實地考察以蒐集資料。請問：下列何地較「不容易」尋到故址與相關資料？  
 (A)臺東 (B)臺南 (C)臺北 (D)鹿港。
- C31. 他在同治末年以欽差大臣的身分來臺辦理海防事務，他曾說：「臺地向稱饒沃，久為他族所垂涎，今雖外患暫平，旁人仍眈眈而視。」又說：「臺灣海外孤懸，七省以為門戶。」故主張積極建設臺灣，請問下列哪一建設是在他任內所建？  
 (A)安平古堡 (B)海門天險 (C)億載金城 (D)臺北府城。
- D32. 「□渡海來臺後居岸裡社。□熟悉番語，深知番人風情，……，受頭目阿穆賞識，而將女兒嫁給他，人稱『番仔駙馬』。1723年(雍正元年)任岸裡社總通事，設立「◎」墾號投入開墾。後與土官潘敦仔簽訂墾約，用『割地換水』方式，即用開墾的○圳一部分水源與原住民交換土地，順利開發臺中地區。1750年，因其勢力過大，遭清廷整肅，□遭革職遣回原籍。」關於上述文字，下列相關的敘述正確的是  
 (A)□應是施世榜 (B)□開墾的範圍，在當時隸屬於淡水廳 (C)◎應為金廣福 (D)○圳應是貓霧揀圳。
- A33. 臺灣早期漢人是個移墾的社會，到了 19 世紀中葉以後逐漸進入定居的型態。從下列的整理當中，有關臺灣社會從移墾到定居的改變，哪一項是正確的？

	早期移墾社會	定居社會
(A)人口結構	男多女少	性別、年齡層比例漸趨平衡
(B)領導階層	科舉出身的士紳	地方豪強為主
(C)宗族組織	開臺祖組織較多	唐山祖組織較多
(D)商業方面	以買辦為主	以郊商為主體

- B34. 某書載道：「此時美國早已獨立建國，擁有合眾政府，而法國大革命也即將醞釀成形。西方的民主思潮澎湃，東方則沒有一點知覺，台灣一位善經營的『地方角頭』卻穿著龍袍，高坐堂上，眾呼萬歲，在做中國式「龍的傳人」的大夢。」，請問以上引文描述的「地方角頭」是誰？  
 (A)朱一貴 (B)林爽文 (C)蔡牽 (D)戴潮春。
- B35. 臺灣開港通商後，西方傳教士到臺灣傳教中以哪一教派最為積極？  
 (A)基督教浸信會 (B)基督教長老教會 (C)天主教道明會 (D)天主教耶穌會。
- B36. 康熙 26 年，臺灣正式實施科舉制度，舉行童試及歲、科兩試，但應試者多為內地各府縣來臺寄籍的讀書人，同年在福州進行的鄉試，臺籍生員應試者寥寥無幾。請問當時清廷用哪一措施試圖提高臺灣的文教風氣？  
 (A)增設學校 (B)另編「臺」、「田」字，增加錄取員額 (C)改在臺灣進行鄉試 (D)禁止內地讀書人來臺寄籍。
- C37. 清領時期，臺灣原本有「福建穀倉」之稱，臺灣稻米不僅可以自給自足，且有大量的餘糧可以運銷大陸內地，首任巡臺御史曾描述道：「千倉萬箱，不但本郡足食，並可資贍內地。」請問在 1860 年後，臺灣不再有餘糧交換中國大陸手工業產品的原因為何？  
 (A)因旱災頻頻發生 (B)臺灣轉變成商業社會 (C)農民改種經濟作物 (D)原漢衝突日趨嚴重。
- D38. 一級古蹟「金廣福公館」對臺灣早期的開發史，有何意義？  
 【甲】粵籍周邦正和閩籍姜秀鑾聯合開墾成功，代表當時已無祖籍別之械鬥  
 【乙】「金」是銜官令而設，不是平常墾區可用的名號  
 【丙】有助於我們對新竹東南山區早期開發的了解  
 【丁】金廣福墾號在 1830-1840 年代（道光年間）閩粵合資開墾，公館是其辦事處  
 (A)甲乙丁 (B)甲乙丙 (C)乙丁 (D)丙丁。

※（題組 39-40）

下圖為清代臺灣主要水圳分布圖，請回答以下問題



B39. 農業開墾往往需要灌溉設施的配合，水利開發是一項利潤高、風險高且不易維持的事業，請選出開圳的先後順序 (A) 丙丁甲乙 (B) 丙乙甲丁 (C) 丙乙丁甲 (D) 丙甲乙丁

D40. 「丙」是清領時期臺灣規模最大的水利工程建設，下列相關敘述，何者正確？  
 (A)由張達京主持修築 (B)該圳初建時，有賴於老者幫忙，特建王先生廟以茲紀念 (C)是割地換水，原漢合作的事例(D)使彰化平原成為臺灣重要穀倉。

※ (題組 41-42)

下圖為清代臺灣與中國的對渡口岸，請回答以下問題



C41. 清初規定鹿耳門與廈門對渡為唯一合法的正式口岸。然走私貿易牟利，官方取締成效不彰的情況下，增開口岸。下列敘述何者為是？

(A)甲為蚶江 (B)丙為廈門 (C)乙為八里坌 (D)戊為五虎門。

C42. 乾隆初年那一港口已是「水陸碼頭，穀米聚處」，到了乾隆末年更獲准與蚶江直航對渡？

(A)乙 (B)丙 (C)丁 (D)己。

※ (題組 43-44)

1867年，羅妹號船事件發生後，美國駐廈門領事李仙得偕同通事六人抵臺，與恆春地區十八社總頭目卓杞篤直接交涉，雙方達成口頭協議，同意歸還船長亨利夫婦的首級及所劫物品，並允諾受難者以紅旗為信號，表示對頭目的友好，不再殺害船難者。1869年，李仙得再度來臺確認原住民是否遵守該條約，2月28日與卓杞篤再度會面，正式簽訂「親善盟約」的書面協議，羅妹號事件始告落幕。

D43. 此事件的影響為何？

(A)外國使節可以直接與原住民交涉 (B)清廷開始改變治臺態度 (C)日後原住民不再殺害遇難船員 (D)外人開始瞭解清廷治理範圍不及生番地。

B44. 日後哪個國家受到此事件的啟發，展現占有臺灣的野心及行動？

(A)英國 (B)日本 (C)荷蘭 (D)西班牙。

## 二、多重選擇題(每題 1.5 分，共有 8 題，共 12 分，答錯倒扣 1/5 題分)

ADE45. 清領初期，漢人移墾臺灣後，泉州人居於沿海地區，漳州人居於靠內陸的平原，客家人則更往內部鄰近山地丘陵，此現象形成的原因為何？

(A)與來臺先後有關(B) 與是否和平埔女子婚配有關係 (C)清朝之政策規定 (D)與分類械鬥後之族群遷徙有關 (E) 與各族群原有的生活習慣有關。

ABDE46. 有關於清代臺灣的民變的論述，下列何者正確？

(A)朱一貴事件後，開始築城 (B)林爽文事件，是臺灣規模最大的民變，乾隆納為十全武功之一 (C)戴潮春事件，是抗清事件中，歷時最短，清廷首次以八旗軍平定亂事 (D)清廷的消極治臺政策，吏治不良等，是多次民變的重要導火線 (E)朱一貴事件，率眾攻陷台灣府城，被推為「中興王」有強烈反清的民族色彩。

ABDE47. 大約在十八世紀中葉，隨著對大陸貿易商業的興盛，臺灣出現「郊」的組織，下列有關「郊」的論述，何者正確？

(A)是由貿易地區相同的商人或從事同一類貨品貿易的商人聯合成立的組織 (B)其目的是為了避免產業競爭，控制貨品價格 (C)郊商從事是以國際貿易為主，日本、南洋為其範圍，中國大陸其次 (D)當時郊商從事臺灣與中國的區域分工貿易，臺灣輸出以米、糖等農產品為主到中國，從中國輸入日常用品到臺灣 (E) 有以貿易地為名的「郊」，也有從事特定商品的糖郊、布郊等。

CD48. 臺灣近山市街的興起，與哪些作物的生產發展有關？

(A)糖 (B)稻米 (C)茶 (D)樟腦 (E)香蕉。

BCD49. 下列關於臺灣開港前、後之比較何者正確？

(A)開港前臺灣的社會菁英為買辦和士紳，開港後的社會菁英則為地方豪強、郊商 (B)開港前經濟重心主要於南部，開港後經濟重心逐漸往北移 (C)開港前臺灣最重要的外銷產業是蔗糖和稻米，開港後是茶葉、糖和樟腦 (D)清廷在開港前政策為消極治臺，開港後發生牡丹社事件轉趨積極治臺(E)基督教傳教士在開港前和後，都一直活躍於臺灣南、北各地。

ABCD50. 劉銘傳全面進行清查土地，以增加課稅的基礎，並改革稅制，實施「減四留六」法。下列關於此改革的敘述何者正確？

(A)將大租分為十分 (B)小租戶成為實際上的業主 (C)小租戶成為實際上的繳納正供者 (D)大租戶可保留六分的大租 (E)小租戶可保有四分的大租，做為收成。

ADE51. 附表是清領時期臺灣科舉試中舉人數的統計，下列敘述哪些正確？

(A)康雍時期臺灣沒有人中進士，這是因為移墾時期，一般人民輕忽文教的緣故 (B)乾隆時期考取進士的第一人是鄭用錫 (C)乾隆時期考取進士和舉人的人數大增，士紳階層逐漸產生，顯示臺灣已進入定居社會 (D)隨著中舉人數的增加，士紳階層逐漸取代了豪強的社會領導地位 (E)咸光時期中舉人數超過百人，這與臺灣開港通商後經濟繁榮、社會安定、文教大開有關。

	進士	舉人
康雍時期 1684~1735 年	0	15
乾隆時期 1736~1795 年	2	56
嘉道時期 1796~1850 年	6	74
咸光時期 1851~1894 年	21	106

BCD52. 1895 年，西方觀察家報導指出：「日本人接收臺灣時，原本不欲發生太大之衝突。但是，清朝軍隊撤退之際，將槍砲彈藥移交地方民兵（客家義軍），他們皆熟悉武器之操作，且自幼生長於山林溪谷之間，往往對日軍造成嚴重之打擊。」請問這位觀察家所指的民兵包括下列哪些人？

(A)林少貓 (B)吳湯興 (C)徐驤 (D)姜紹祖 (E)柯鐵虎。