

畫答案卡：☑是☐否

適用班級：2-4、2-5、2-6、2-7、2-8、2-10

範圍：第四冊 6~10 章 班級： 座號： 姓名：

一、單一選擇題：每小題 2 分，合計 100 分

◎日治時期興建水利設施改善水源不足缺點後，從此可採水稻、甘蔗和雜糧輪種的三年輪作制，成為臺灣重要的米、糖產地。請回答1-2題：

1. 請問這個地區最可能位在哪裡？ (A)彰化平原 (B)宜蘭平原 (C)屏東平原 (D)嘉南平原。
2. 請問這裡所興建的水利設施最可能以下何者？ (A)八堡圳 (B)瑠公圳 (C)嘉南大圳 (D)日月潭水庫。

◎民國35~42年為臺灣農業的復甦期，政府實施了許多土地政策，至民國40年稻米的生產量終於恢復到戰前生產最高量。請回答3-4題：

3. 民國37年臺灣自耕農占總農戶的比例為33%，到民國63年時提升至80%，請問這個現象和以下哪一項農業政策的實施關聯性較高？ (A)農地公有 (B)農地重劃 (C)耕者有其田 (D)放寬農地買賣。
4. 請問在這個階段政府所推行的一連串政策，其目的為何？ (A)提高土地生產力 (B)保證食品品質 (C)降低農藥的使用 (D)發展精緻農業。

民國	未滿 1 公頃農牧戶
74 年	71.9%
84 年	71.7%
94 年	78.3%
99 年	80.1%
104 年	81.8%

表1 臺灣歷年農牧戶耕地規模變化表

5. 表 1 是臺灣歷年農牧戶耕地規模變化，請問表中的數據反映以下哪一項農業特徵？

- (A)農業人口老化
(B)農業勞動人口不足 (C)農業經營更加粗放 (D)生產成本居高不下。

◎民國 57 年以前，臺灣綜合糧食自給率達到 100%，但至民國 105 僅剩三成左右，甚至低於鄰近的日、韓等國，請根據圖 1 回答 6-7 題：

6. 國內對於玉米、大豆的需求增加，請問和以下何種因素最為相關？(A) 農業機械化 (B)飲食習慣改變 (C)合組產銷班 (D)無法加入區域貿易協定。
7. 請問以下何者最可能是稻米自給率的變化曲線？(A)甲 (B)乙 (C)丙

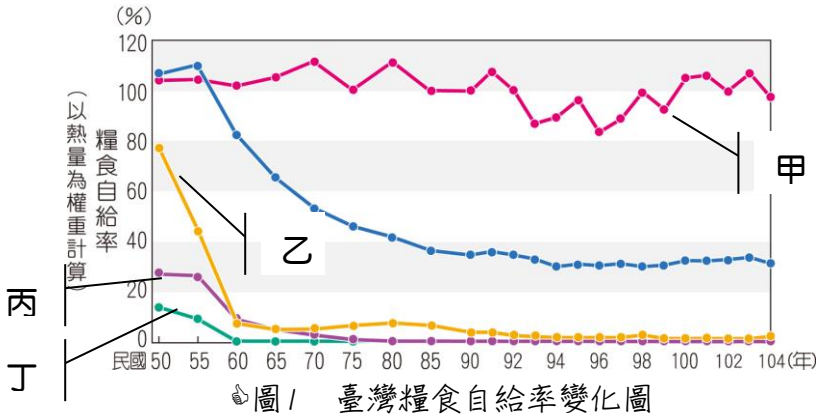
(D)丁。

◎民國 98 年農委會推動一項「小地主大佃農」政策，所謂「小地主大佃農」係指政府輔導無力或無意耕作之農民或地主，將其自有土地長期出租給有意願的農業經營者，促進農業勞動結構年輕化，並使老農安心享受離農或退休生活。請回答 8-9 題：

8. 請問年輕佃農承租多塊農地除了可以達到規模經濟外，還可促使耕作朝向哪一種型態轉型？ (A)自動化 (B)機械化 (C)泰勒化 (D)有機化。
9. (甲)降低生產成本；(乙)農家收入增加；(丙)農業勞動力年輕化；(丁)農村人口外流。請問「小地主大佃農」政策可能造成下列哪三項結果？ (A)甲乙丙 (B)甲乙丁 (C)甲丙丁 (D)乙丙丁。
10. 農委會推廣的「產銷履歷制度」讓農產品從田間管理到銷售管道都有公開紀錄，逐漸建構臺灣為無毒的農業體系。為了健康，消費者也願意花較多的錢來購買自然安全的食物。請問農民地此種生產型態稱做什麼？ (A)藝術農業 (B)休閒農業 (C)生態農業 (D)精緻農業。

◎1976 年以後，臺灣茶葉生產發生變革，由於當時工業發展導致農村勞力不足，造成製茶成本過高，茶葉外銷數量逐漸萎縮；之後政府積極舉辦製茶比賽，將茶葉評等分級計價，部分茶農也兼營家庭式小茶廠，提升製茶技術，並以品牌化的小包裝直接銷售給消費者，促使內銷市場的成長，如位於濁水溪以南、斗六丘陵東側的南投鹿谷即為當時著名的凍頂烏龍茶產區。至二十世紀末期，臺灣「即飲茶」產品興起，隨著市場的擴大，本土茶廠產量不足，臺灣企業遂至國外設廠生產茶葉，運回臺灣製成茶產品。請回答 11-13 題：

11. 請問 1976 年之後，因為臺灣工業進入到哪一個發展階段，導致之後農



- 村勞力不足，臺灣茶葉生產發生變革？(A)進口替代時期(B)出口擴張時期(C)重化工業時期(D)高科技導向時期。
12. 上文內容「部分茶農也兼營家庭式小茶廠，提升製茶技術，並以品牌化的小包裝直接銷售給消費者」，請問以下哪一種農業類型最適合描述此種經營型態？(A)生態農業(B)精準農業(C)精緻農業(D)休閒農業。
13. 上文內容提及「本土茶廠產量不足，臺灣企業遂至國外設廠生產茶葉，運回臺灣製成茶產品」請問以下哪一個名詞最適合解釋此種情形？(A)規模經濟(B)聚集經濟(C)產業分工(D)區域專業化。
14. 聚陽實業將製成衣廠房外移到鄰近的中國大陸和東南亞國家，以降低生產成本的過程中，請問可以用以下哪一個地理概念來解釋？(A)工業慣性(B)空間移轉(C)產業升級(D)規模經濟。
- ◎臺灣工業發展帶動經濟成長，自1950年以來工業發展的政策與發展大致可分為：(甲)進口替代；(乙)出口擴張；(丙)第二次進口替代；(丁)高科技工業等四個時期。請回答15-17題：
15. 請問「進口替代」產業生產區位特色最可能是以下何者？(A)原料(B)勞工(C)資金(D)市場。
16. 請問政府推行十大建設，讓臺灣產業成功轉型主要是哪一時期經濟發展策略的成果？(A)甲(B)乙(C)丙(D)丁。
17. 請問產品重視研發與創新，且具高附加價值、高資本與技術投入特性的時期為何？(A)甲(B)乙(C)丙(D)丁。
- ◎臺灣在民國六〇年代發展的重化工業，於民國七〇年代開始遭遇瓶頸。因此，民國75年政府通過由臺塑企業主導的「六輕」計畫。民國80年，六輕確定落腳雲林縣麥寮鄉，隨即開始著手填海造陸及建廠計畫，於民國98年，完成麥寮工業區的前四期工程。請回答18-20題：
18. (甲)對內陸居民的環境影響較小；(乙)填海造陸造價較低；(丙)較容易進出口原料與產品；(丁)易接收曾文溪之水資源。六輕之所以會設置於麥寮，請問其主要原因有以下哪二項？(A)甲乙(B)甲丁(C)乙丙(D)甲丙。
19. 隨著石化工廠開始營運後，工廠排放之廢棄物造成空氣汙染，請問麥寮的哪一種傳統產業受損最大？(A)工業(B)農業(C)牧業(D)養殖業。
20. (甲)帶來許多營養鹽分，致使附近生態更為豐富；(乙)為填海造陸，影響附近生態；(丙)阻擋漂沙，使外傘頂洲面積縮減；(丁)提供了工業區更為方便的交通。以上哪三項是麥寮工業港興建後所帶來的影響？(A)甲乙丙(B)乙丙丁(C)甲乙丁(D)甲丙丁。
21. 民國68年，政府發布施行臺灣地區綜合開發計畫，將區域劃分調整為北部、中部、南部和東部四大區域，請問區域劃分希望達成以下哪三項目的？(甲)保育天然資源；(乙)維護生態環境；(丙)均衡人口分布；(丁)均衡區域發展。(A)甲乙丙(B)甲乙丁(C)甲丙丁(D)乙丙丁。
22. 請問19世紀中葉，哪一項產品的貿易，奠定了北部區域發展超越臺灣其他區域成為臺灣政經中心的基礎？(A)茶葉(B)稻米(C)花卉(D)甘蔗。
- ◎臺灣在過去區域計畫的引領下，各區域均發展出其特色，以下是關於各區域特色的描述，(甲)臺灣的米倉區；(乙)擁有臺灣最大的港口和重工業；(丙)工、商、服務業最發達的經濟核心；(丁)山明水秀的淨土。請回答23-25題：
23. 請問以下何者最可能是「臺灣熱帶水果的生產重鎮」區域的描述？(A)甲(B)乙(C)丙(D)丁。
24. 請問以下何者最可能是「原住民族人口占該地人口比例最高」區域的描述？(A)甲(B)乙(C)丙(D)丁。
25. 請問以下何者最可能是「以山林之美取勝的遊憩觀光業」區域的描述？(A)甲(B)乙(C)丙(D)丁。
26. 請問以下哪一個島嶼的地質是火山熔岩形成的？(A)金門(B)馬祖(C)龜山島(D)南沙群島。
27. 為解決都市問題，臺灣都市計畫以「改善居民生活環境，並促進都市與鄉村有計畫均衡發展」為主要目標。民國七〇年代以後，臺灣都市郊區發展迅速，但卻引發其他問題，其中包含以下哪三項現象？(甲)郊區快速發展也造成大量通勤、通學人口，使都市與郊區之間的交通壅塞難行；(乙)許多郊區住宅供過於求，造成土地使用不經濟的現象；(丙)住

商分離的現象已成常態；(丁)舊市區機能喪失形成都市衰退。 (A)甲乙丙 (B)乙丙丁 (C)甲乙丁 (D)甲丙丁。

◎表 2 為民國 105 年臺灣四大區域人口成長統計表。請回答 28-29 題：

28. 請問根據表中資訊判斷，下列何者最可能是北部區域？

區域	人口成長率(%)	自然增加率(%)	社會增加率(%)
甲	0.47	0.33	0.14
乙	-0.13	-0.10	-0.03
丙	-0.48	-0.32	-0.16
丁	0.16	0.15	0.01

表2 民國105年臺灣四大區域人口成長統計表

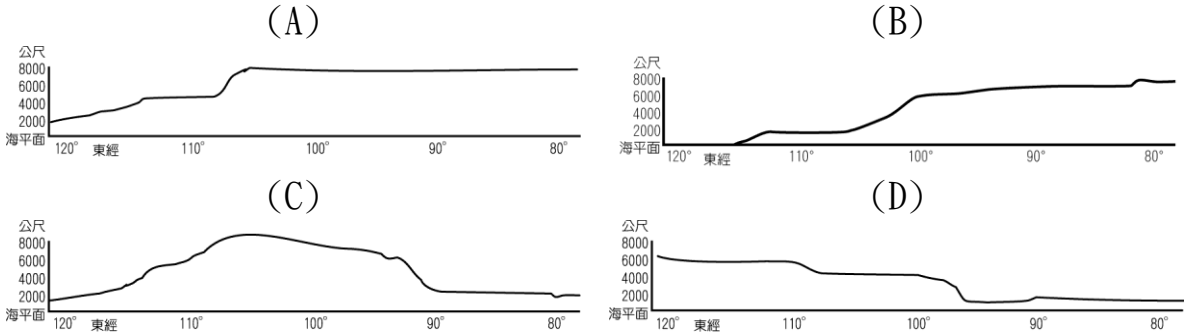
- (A) 甲
(B) 乙 (C) 丙 (D) 丁。
29. 請問從表 2 所提供的資訊中可觀察臺灣正面臨何種人口問題？ (A) 向南部區域集中 (B) 東部地區人口外流嚴重 (C) 人口成長快速 (D) 郊區集中。
30. 請問哪一個交通系統通車後，使臺北與宜蘭的距離變近了，該路段最為著名是長達十幾公里的隧道？ (A) 中山高速公路 (B) 臺灣高速鐵路 (C) 蔣渭水高速公路 (D) 福爾摩沙高速公路。
31. 隨著經濟的發展，對於能源及用電的需求大增，在中國，主要河川中上游多富藏水力資源，可作為再生能源使用。請問此資源的形成，與中國的哪一項地理條件最為相關？ (A) 疆域範圍遼闊，橫跨緯度大 (B) 雨量東多西少，氣候差異顯著 (C) 地形種類複雜，景觀變化多 (D) 地勢西高東低，高度落差大。
32. 秦嶺、淮河為中國年雨量 750 毫米的分界線，形成兩種不同的環境特色。下列有關該界線劃分特色敘述中，何者最為正確？

	(A)緯度位置	(B)主要土地利用	(C)傳統交通	(D)土壤種類
年雨量小於 750 毫米	緯度位置較低	旱田為主	船舶運輸為主	偏酸性土
年雨量大於 750 毫米	緯度位置較高	水田為主	馬匹陸運為主	偏鹼性土

33. 在中國，外流河大多分布於東半部，內流河則多位於西北部。請問此水系分布特性，與中國的哪些自然環境特性有關？(甲)地勢西高東低；(乙)

雨量東多西少；(丙)日照南少北多；(丁)氣溫南高北低。 (A)甲乙 (B)甲丙 (C)乙丙 (D)乙丁。

34. 中國地形依其高度分布形成三大階梯，下列何者最接近「由東至西」繪製的地形剖面圖？



35. 配合經濟發展中國大陸推出三大經濟地帶，即東部、中部及西部，但是因為發展不均的現象日益明顯，與其所奉行的共產制度相悖，近年來又修正調整為新三大經濟地帶，許多的經濟指標又加入哪一地區以達到「四輪驅動」的效應？ (A) 華北 (B) 西南 (C) 西北 (D) 東北。
36. 中國於 2014 年提出「一帶一路」的計畫，路線分成陸上絲路和海上絲路，打造跨亞、非、歐的經濟與政治倡議，此新形式將使各國聯繫更加緊密。圖 2 為一帶一路示意圖，請問「一帶一路」海上絲路的起點，位在中國的哪個地區？ (A) 華北 (B) 塞北 (C) 華南 (D) 東北。

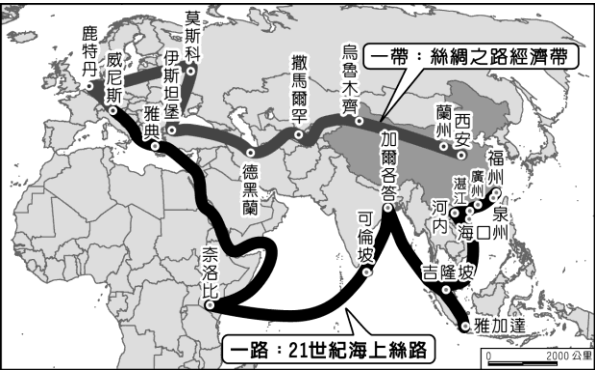


圖2 一帶一路示意圖

37. 十八世紀中葉，乾隆皇帝召集 3 萬以滿、蒙族為主的士兵，欲攻打某地，並準備了 15 萬匹馬、10 萬頭駱駝用以載運貨物，另有 10 萬頭牛、羊用以屠宰食用。該地今日最可能出現下列哪項景觀？ (A) 架設從哈薩克輸入原油的跨國管線 (B) 為發展棉花種植業的沼澤排水工程 (C) 早期穆斯林渡海來此興建

的清真寺 (D)促進漢人返鄉投資的經濟特區廣告。

38. 請問以下關於東部沿海地帶的敘述何者正確？ (A)礦產資源最豐富 (B)都市化水準最高 (C)少數民族集中，文化多樣 (D)因過度開發，水土流失問題最為嚴重。

◎由於中國三大經濟地帶的劃分經濟區方案存在一些明顯缺陷，故有學者從均衡發展、區域合作的角度，將三大經濟地帶調整為十大綜合經濟區（如圖3所示），期以建立中國各具特色和機能的區域經濟體系。請回答39-40題：

39. 建設成為具有國際影響力的世界性金融中心，全國最具影響力的多功能的製造業中心，特別是輕工業裝備產品製造中心，以及高新技術研發和製造中心。」請問以上應為哪一經濟區的發展目標？
(A)東北綜合經濟區
(B)北部沿海綜合經濟區
(C)黃河上中游綜合經濟區
(D)東部沿海綜合經濟區。

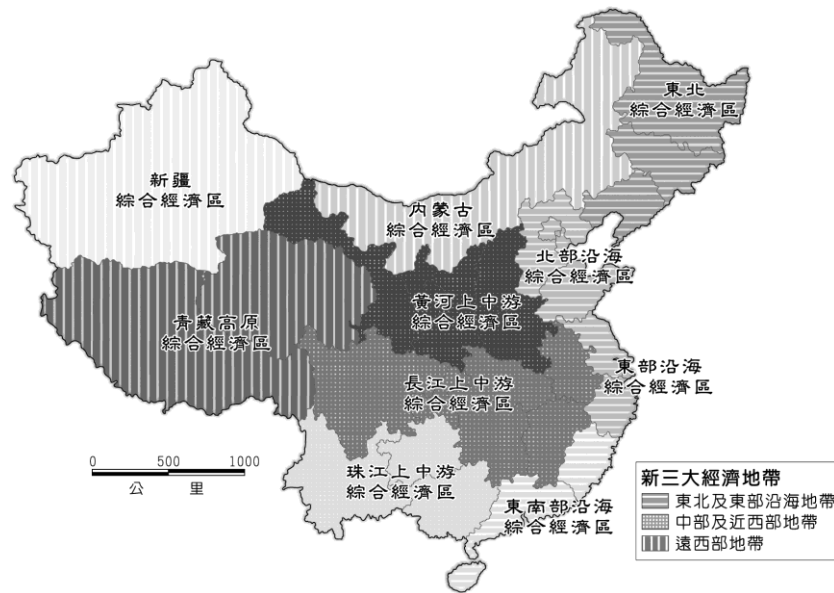


圖3 十大綜合經濟區示意圖

40. 請問哪一個綜合經濟區的農業以玉米、大豆和甜菜為主，可以被建設成中國大陸專業化農產品的生產基地？ (A)北部沿海綜合經濟區 (B)東北綜合經濟區 (C)東部沿海綜合經濟區 (D)東南沿海綜合經濟區。

◎中國的人口分布以黑河至騰衝為界，分為東西兩部分，其特色如表3中所示。請回答41-43題：

41. 根據表3中特色判斷，請問中國人口分布主要呈現出下列何項特性？

(A)界線東側出生率高，因此人口自然增加率較高 (B)界線西側人口外流，聚落內多以老年人口為主 (C)界線西側勞力不足，主要產業活動以牧業為主 (D)界線東側人口集中，人口密度高而活動空間小。

	界線以東	界線以西
土地面積	43%	57%
人口比例	94%	6%

表3 中國的人口分布統計表

42. 圖4為中國疆域的簡圖，圖4中哪一條界線最適合作為人口多寡的分界線？ (A)甲 (B)乙 (C)丙 (D)丁。

43. 請問圖4哪一條線段的剖面圖最可能是農業與畜牧業的界線？ (A)甲 (B)乙 (C)丙 (D)丁。

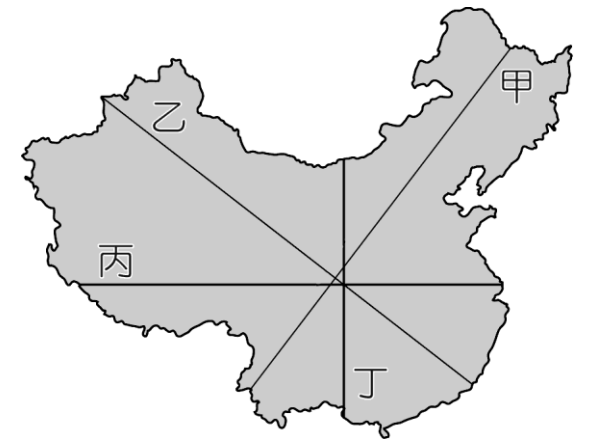


圖4 中國疆域的簡圖

44. 根據遠見雜誌2019-02-03的報導：「大陸春運是一場約世界1/2人口規模的人口大遷徙。大陸交通部預估，2019年從1月21日起至3月1日，將運送29.9億人次回鄉過年及返程開工。」在外國人眼中像是個奇蹟一般的春運，也是「地表最大的人類遷徙」。請問下列何者為其形成最根本原因？ (A)人口總數過多 (B)區域發展不均 (C)交通設施不發達 (D)地理幅員遼闊。
45. 清代北京有句諺語：「中城珠玉錦繡，東城布帛菽粟，南城禽魚花鳥，西城牛羊柴炭，北城衣冠盜賊。」請問在清明上河圖中出現的駱駝商隊所帶來的商品最可能出現在哪個地方？ (A)東城 (B)南城 (C)西城 (D)北城。

◎中國的都市化程度在1980年代後開始大幅上升，中國的都市政策經歷了二個階段的發展。請回答46-47題：

46. 請問1978年以前新出現的都市主要分布於何處？ (A)內陸地區 (B)歷史古城 (C)沿海地區 (D)鐵路沿線。

47. 請問 1980 年代以後，中國的鄉村地區受到「離土不離鄉，進廠不進城」的政策影響，產生了下列何種變化？ (A)農田少有廢耕 (B)鄉鎮企業的發展 (C)經濟特區設立 (D)農村勞力湧入都市。
48. 二十多年前的上海，老百姓的住房條件很差，然而在老百姓中卻流傳著這樣一句話：「寧要浦西一張床，不要浦東一間房。」這表示當時作為市區的浦西已沒有多少空餘的土地了，雖然政府在被大多數人認為是近郊的浦東造了一些房子，給老百姓改善居住條件，但浦東仍不受當時百姓青睞。請問造成這種現象的主要原因為何？ (A)受黃浦江阻隔，交通不便 (B)經濟發展程度的差異 (C)地勢低平，多水患之虞 (D)長江阻隔，交通不便。
- ◎中國的人口在西元 1952 年時有 5 億 7,482 萬人，到了西元 2018 年有 1,384,688,986 人，是全世界人口最多的國家，為了避免人口過多所引發的問題，一直以來中國政府有各種人口政策以作為因應。請回答 49-50 題：
49. 中國自從一胎化的政策實施後，出生率頻頻下降，已進入低出生階段，然而每年人口增加的數量依然龐大，這種現象和下列何者的關係最大？ (A)經濟發展快速，外來移入人口多 (B)重男輕女觀念，一夫多妻制盛行 (C)人口基數龐大，故出生人數眾多 (D)醫療衛生進步，新生兒大幅增加。
50. 中國大陸政府於 2015 年底取消一胎化政策，開放「全面二孩」，請問由此可以了解中國的人口面臨的狀況為何？ (A)人口數量太多 (B)性別比例均衡 (C)嬰兒死亡率急速上升 (D)未來勞動人口比重下降。