

考試範圍：地理（三）第 6 章~第 7 章 適用班級：204~207 班 答案卡 答案卷 班級： 座號： 姓名：

一、單一選擇題：84% (1~42 題，每題 2 分，需畫卡)

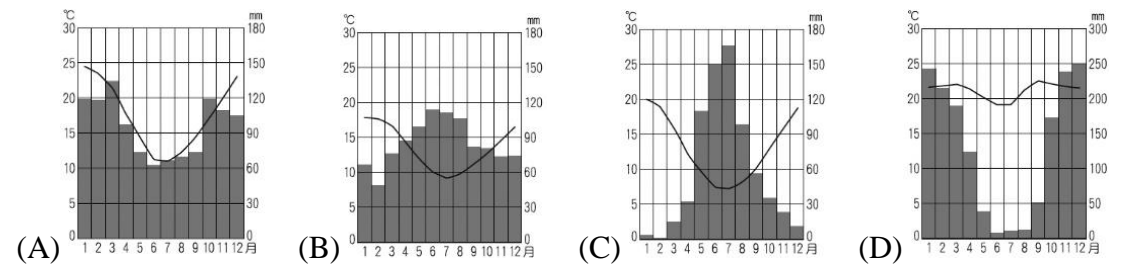
1. 南美洲介於大西洋及太平洋之間，然而東西兩岸的地形特色差距甚大。下列有關該地區東西兩岸地形的特色比較，何者正確？

	(A)	(B)	(C)	(D)
東岸	地勢較高	地形崎嶇	古老地塊	地震頻繁
西岸	地勢較低	地形平坦	新褶曲板塊	地殼穩定

2. 「南美安地斯山北段土地利用呈垂直分布，沿海的綠洲和低海拔的河谷主要種植『甲』；介於海拔 1,000~2,000 公尺排水良好的坡地，栽培的作物以『乙』、可可、香蕉為主；2,000 公尺~3,000 公尺左右的地帶，多種玉米、『丙』、馬鈴薯；超過 3,000 公尺的高原，則為寒帶草原，因氣候嚴寒，無法從事農耕，為印第安人放牧的地區。」甲乙丙依序應為：
 (A) 甘蔗、咖啡、小麥 (B) 甘蔗、小麥、咖啡 (C) 咖啡、甘蔗、小麥 (D) 小麥、甘蔗、咖啡
3. 中美洲主要位於赤道與回歸線之間，下列有關中美洲各地的氣候，哪些敘述是正確的？(甲)中美地峽東側沿海因為迎東南信風，呈雨林氣候；(乙)中美地峽西側因為背東北信風，呈莽原氣候；(丙)中美洲內陸高原與山地氣候涼爽宜人，人口聚集；(丁)中美洲北部因副熱帶高壓及涼流影響，成為乾燥氣候。(A)甲乙丙 (B)甲乙丁 (C)甲丙丁 (D)乙丙丁
4. 中南美洲的印第安文明是世界重要古文明之一，其對全世界的重要貢獻之一在於原生作物的栽培。請問印第安人培育出哪些農作物？(甲)蕃茄；(乙)馬鈴薯；(丙)小麥；(丁)小米；(戊)可可。(A)甲乙丙 (B)甲乙戊 (C)乙丙丁 (D)乙丁戊
5. 墨西哥境內有廣大的沙漠氣候分布，其成因與下列哪個地區的沙漠氣候相同？(A)美國西部 (B)中亞內陸 (C)智利北部 (D)阿根廷南部

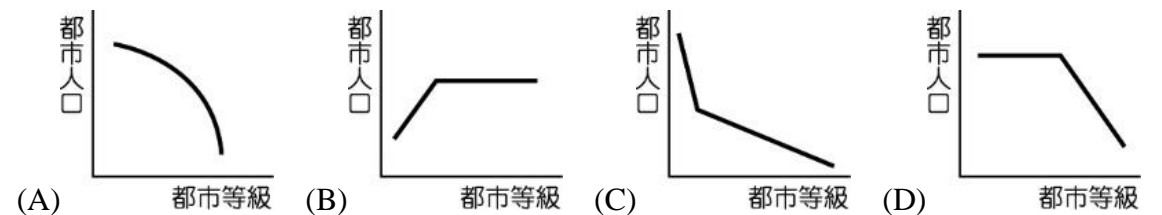
◎ 號稱世界三大嘉年華之一的巴西里約熱內盧狂歡節，盛大的節慶活動每每吸引世界各地數千萬名遊客慕名前來。請回答第 6~7 題：

6. 該地氣候特徵為下列哪一張氣候圖？



7. 巴西嘉年華會的特色，主要是由哪兩個文化所合成的？(A)天主教節慶、基督教儀式 (B)印加文化、天主教節慶 (C)黑人歌舞、印加文化 (D)天主教節慶、黑人歌舞
8. 巴西為中南美洲最大的國家，早期主要都市皆位於東部沿海，如著名的里約、薩爾瓦多等。這些沿海地區並無任何重要物產，但卻成為重要的都市，而此類情況在中南美洲相當常見，其主要原因為下列何者？(A)地勢平坦，利於農作 (B)農礦輸出，港口都市 (C)暖流經過，氣候溫暖 (D)勞工眾多，加工出口
9. 「多元的合成文化」是中南美洲的區域特色之一。該區域特色的形塑，和下列哪項事實有關？(A)大地主制和貧富差距的擴大 (B)工業革命和世界貿易的興起 (C)奴隸貿易和歐洲殖民的背景 (D)市場開放和熱帶雨林的開發
10. 中南美洲土地分配極度不均，以巴西為例，其農場規模在 1,000 公頃以上的大地主農戶僅占 1%，卻擁有全國將近一半的農地面積。土地分配不均，可能帶來下列哪三項影響？(甲)土地過大使農作多樣化；(乙)大多數國家呈現首要型的都市型態；(丙)貧窮及遊童為本區普遍的現象；(丁)租佃關係不利農地改革。(A)甲乙丙 (B)甲乙丁 (C)甲丙丁 (D)乙丙丁

11. 臺灣某企業將需要大量廉價勞工的相關產業遷移至中南美洲。若其在設廠時希望排除當地經常發生地震、颶風、海嘯的地區，以避免相關的損失，則該企業最適合到下列何處設廠？ (A)墨西哥市 (B)巴西利亞 (C)聖地牙哥 (D)巴拿馬市
12. 某旅行社對甲國的文宣介紹如下：「這個美洲大陸的文明古國，以陽光與熱情聞名於世；國民也以親切、開朗的性格，自詡為『友好之國』。在十六世紀西班牙人來到之前，是由擁有先進天文、曆法與建築技術的阿茲特克帝國所統治，現在從首都即可見到古舊斑駁的阿茲特克時代遺跡、西班牙式的宮殿與教堂、現代化的摩天大樓等多重的人文景觀。」甲國最可能是下列何者？ (A)秘魯 (B)阿根廷 (C)玻利維亞 (D)墨西哥
13. 中南美洲高度都市化對都市可能造成的影響，下列哪三項正確？(甲)都市環境汙染；(乙)創造都市大量就業機會；(丙)都市基本設備嚴重不足；(丁)交通擁擠；(戊)使都市快速工業化。 (A)甲乙丙 (B)乙丙丁 (C)甲丙丁 (D)乙丁戊
14. 十九世紀至二十世紀初，脫離外國殖民而獨立的中南美洲各國，其政局仍不穩定，與下列哪些因素有關？(甲)社會貧富差距懸殊；(乙)政權為少數人所把持；(丙)種族多元，部落戰爭不斷；(丁)偏重工業，農、礦發展相對不足。 (A)甲乙 (B)乙丙 (C)丙丁 (D)甲丁
15. 下列哪二項最能表現中南美洲殖民地式經濟的特色？(甲)大農場內種植各種作物；(乙)農作多為經濟作物；(丙)自給式集約農業；(丁)出口單一農畜產品。 (A)甲丙 (B)乙丁 (C)甲丁 (D)乙丙
16. 美洲地區依其發展特色不同，分為北美洲及中南美洲。中南美洲的發展雖較北美洲早，然而受到殖民地式經濟的影響，資金難以累積，因此經濟發展普遍不佳。請問這和該地區何種貿易狀況的關係最大？ (A)輸出低價農作，進口昂貴礦產 (B)輸出加工產品，進口農礦原料 (C)輸出工業產品，進口糧食作物 (D)輸出農牧礦產，進口工業產品
17. 中南美洲受到長期殖民統治的影響，出口多以單一農礦產品為主，請問下列哪一組國家與農礦產品的配對是正確的？ (A)智利：銅礦 (B)委內瑞拉：黃金 (C)巴西：小麥 (D)阿根廷：香蕉
18. 二次世界大戰以後到 2018 年，世界小姐選美比賽的結果，委內瑞拉奪冠次數和印度並列為最多的國家，而環球小姐選美比賽，委內瑞拉也只僅次於美國，居全球第二。有學者分析，委內瑞拉美女如雲的原因，與該國有 68%左右的混血種民族有關。請問文中所提到的混血種族，最可能是下列哪二個民族通婚的結果？ (A)印第安人、非洲黑人 (B)非洲黑人、葡萄牙人 (C)印第安人、西班牙人 (D)西班牙人、非洲黑人
19. 某人旅遊日記上記載：「今天我參觀一處大型農場，農場內有工人宿舍、學校、天主教堂；除了宿舍附近種有一些蔬菜和水果外，農場內最主要的作物是咖啡。」該種農場景觀在下列哪一個地區最為常見？ (A)德干高原 (B)巴西高原 (C)中南半島 (D)伊比利半島
20. 墨西哥政府為加強發展汽車工業，憑藉著提供優惠的關稅外，還有得天獨厚的優勢，吸引許多國際汽車大廠前來投資設廠，讓墨西哥在 2019 年躍升為全球第六大汽車生產國。墨西哥具有哪些競爭優勢，吸引美、日汽車大廠至墨西哥設廠？(甲)勞力低廉；(乙)原料充足；(丙)鄰近市場；(丁)技術優越。 (A)甲丙 (B)甲丁 (C)乙丙 (D)乙丁
21. 西班牙南部某家紅酒商最近希望擴大其紅酒的產區，他打算選擇一個文化、語言和氣候與本國相似的地區作為投資的對象，請問下列哪個地區最適合這家紅酒商的投資？ (A)哥倫比亞北部 (B)阿根廷西南部 (C)委內瑞拉東部 (D)智利中部
22. 中南美洲的國家因為受到早期殖民主義的影響，形成大地主制的特色，鄉村農民收入微薄，因而造成鄉村人口大量遷往都市，形成極高的都市化現象。請問該地區的都市階層體系最接近下列何者（圖的縱、橫座標均為對數值）？

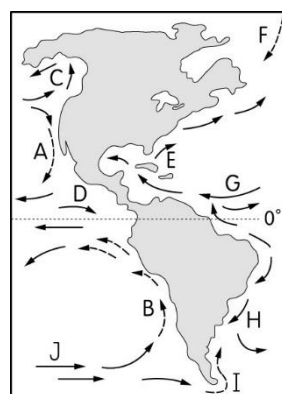


23. 實施下列哪一種措施才能根本解決中南美洲嚴重貧富不均的情況？ (A)開發內陸資源 (B)土地改革 (C)國民教育 (D)民主法治

24. 現今中美洲的經濟活動仍深受早期殖民統治的影響，哪些敘述最能表現中美洲的經濟特色？(甲)傳統農業發展多有工業支持；(乙)經濟發展易受國際市場波動；(丙)中美洲各國經濟結構互補佳；(丁)進出口貿易呈現不平等交換；(戊)資金、技術仍依賴歐美國家。(A)甲乙丁 (B)甲丙戊 (C)乙丙丁 (D)乙丁戊
25. 圖 1 為 1980 年代布朗特界線所劃分出的南北區域，(甲)多數南方區域國家曾被西方國家殖民；(乙)北方區域國家的高科技與知識產業較發達；(丙)依緯度劃分，北緯 30 度以南為南方區域；(丁)現今南方區域各國的經濟發展差距已消失。下列敘述何者正確？(A)甲乙 (B)乙丙 (C)丙丁 (D)甲丁



▲圖 1



▲圖 2

26. 2001 年時，世界的漁獲市場因為聖嬰現象的氣候變遷，造成鯷魚的主要產地漁獲量大減，進而價格水漲船高。請問鯷魚的主要漁獲產地受到圖 2 中哪一股洋流的影響最為明顯？(A)A (B)B (C)E (D)H
27. 在不考慮地方時的情況下，印度邦加羅爾與美國矽谷 ($120^{\circ}W$) 時差正好相差 13 小時，運用通訊設備，形成著名的「日不落經濟」。邦加羅爾的經度位置最有可能位於 (A) $49^{\circ}E$ (B) $65^{\circ}E$ (C) $77^{\circ}E$ (D) $93^{\circ}E$
28. 下列哪一都市與臺北市 ($120^{\circ}E$)「時差」最大？(A)伊斯坦堡 ($28^{\circ}E$) (B)舊金山 ($122^{\circ}W$) (C)紐約 ($74^{\circ}W$) (D)火奴魯魯 ($155^{\circ}W$)
29. 現今愈來愈多國家開始透過區域的經濟結盟，來提升自身國家經濟。關於區域經濟結盟的優點，下列哪些正確？(甲)貿易市場擁有規模經濟效益；(乙)已開發國家能鞏固自身地位；(丙)開發中國家將獲得更多勞力；(丁)各國工業獲得聚集經濟利益。(A)甲乙 (B)甲丙 (C)乙丁 (D)丙丁

◎ 現今金融市場牽一髮而動全身，接掌阿根廷央行行長的卡普托 (Luis Caputo) 突然於 2018 年 9 月 25 日早上 10 點無預警宣布辭職，影響阿根廷國內及全球股市。若布宜諾 ($34^{\circ}S, 58^{\circ}W$) 為阿根廷的金融中心，請問 30~31 題：

30. 阿根廷央行行長辭職而影響全球股市，主要原因最可能為下列何者？(A)反全球化 (B)交通革新 (C)區域專業化 (D)人口大爆炸
31. 假設各國股票營業時間為當地時間 9:00~13:00，則阿國央行行長離職後，下列哪一都市受到的股市衝擊可能最早？(A)東京 ($35^{\circ}N, 139^{\circ}E$) (B)上海 ($31^{\circ}N, 121^{\circ}E$) (C)柏林 ($52^{\circ}N, 13^{\circ}E$) (D)安卡拉 ($40^{\circ}N, 33^{\circ}E$)

◎ 電影《分秒幣爭》在敘述 1997 年始於泰國因泰銖大貶發生的亞洲金融風暴波及韓國，導致韓國來不及因應突如其來的國際事件，造成多數企業因此倒閉，失業人口飆升，最終經濟自主權則被迫交託給國際組織，韓國的財經政策走向必須聽從國際貨幣基金組織 (IMF) 的指示，直到韓國走出金融風暴的陰霾。請問 32~33 題：

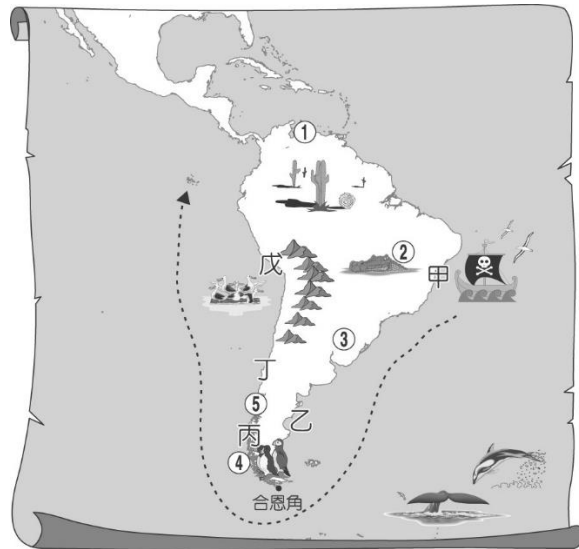
32. 泰國泰銖大貶，波及韓國，使其經濟重挫，與下列何種概念最為相關？(A)都市化 (B)全球化 (C)規模化 (D)專業化
33. 韓國在發生金融風暴後將經濟自主權交託給 IMF，可以說明下列何種現象？(A)國際組織的影響力上升 (B)韓國以第一級產業為主 (C)國家政策活動侷限國內 (D)國界相較以往更加明顯

◎ 近年部分國家退出區域經濟協定，例如美國在川普上任後退出 TPP、英國也透過公投決定退出 EU，上述國家的作為皆是希望能夠讓自身經濟發展策略能夠更加保有彈性，而這也顯示著，全球貿易似乎又從多邊貿易回到原本的雙邊貿易。請問 34~35 題：

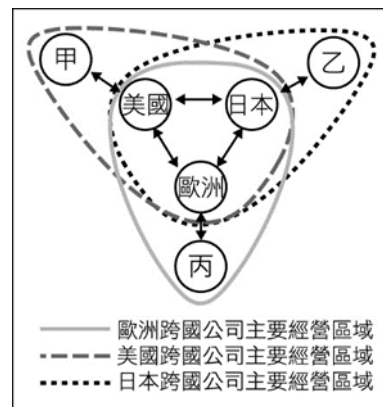
34. 題幹敘述顯示何種現象？(A)交通革新 (B)工業革命 (C)反全球化 (D)區域專業化
35. 根據題幹敘述，英國退出 EU，主要希望能夠獲得何種效益？(A)增加企業回流母國的意願 (B)強化國家本身經濟規模 (C)擴大國家對外的貿易量 (D)經濟主權回歸國家本身

◎ 圖 3 為 1983 年聖嬰年 7 月時虎克船長航行於南美洲時的航海路線圖，甲、乙、丙、丁、戊為其登陸休息的據點。請問 36~39 題：

36. 虎克船長在哪個地點可見到壯觀的冰河地形？ (A)甲 (B)乙 (C)丙 (D)丁
37. 當虎克船長於戊地登陸時，聽到當地居民的談話中，下列敘述何者正確？ (A)今年雨量較往年少，作物都枯死了 (B)今年鯤魚數量較往年少，漁民都漁獲歉收 (C)今年沿海洋流威力較往年減弱，海鳥數量增加 (D)今年氣溫較往年低，常下大雪
38. 下列哪段敘述最能描述虎克船長於南美洲航行的情形？ (A)從丙地到丁地為順著秘魯涼流航行 (B)從乙地到丙地雖逆著西風航行，但風平浪靜 (C)從甲地到乙地為逆著巴西暖流航行 (D)從丁地到戊地常遇到狂風暴雨
39. 圖中哪些地區的降雨型態，7 月雨量高於 1 月？ (A)①②③ (B)②③④ (C)③④⑤ (D)①④⑤




▲圖 3



▲圖 4

◎ 當今世界各地區之間的經濟相互依賴和發展日益緊密，並逐漸整合形成三大經濟板塊。圖 4 為全球三大經濟板塊系統示意圖，該圖可分為內圈經濟體（歐、美、日）與外圈經濟體（甲、乙、丙）兩部分。請問 40~42 題：

40. 圖中的甲、乙、丙三個經濟體分別是： (A)中南美洲、亞洲、大洋洲 (B)亞洲、非洲、大洋洲 (C)中南美洲、亞洲、非洲 (D)大洋洲、亞洲、非洲
41. 圖中六個經濟體最可能出現下列哪項發展特色？ (A)外圈經濟體糧食都能自足，並能提供少量出口 (B)外圈經濟體都以農業為第一大產業，經濟較落後 (C)內圈經濟體都有發達的工業，但均缺乏礦產資源 (D)內圈經濟體向外圈經濟體提供大量資金、技術
42. 下列哪個標誌所代表的組織，最能反映圖中內外圈經濟體相互合作的型態？



二、混合題：16%（每答 2 分。請作答於答案卷）

1. 請閱讀資料，回答下列問題：

資料一：每逢「G20」開會前，幾乎都有反全球化示威者。不只 G20，只要是各種國際經濟合作會議，都是反全球化的舞臺。以前的反全球化觀點，主要是較為激進的「左派人士」訴求發展中與已開發國家區之間的不平等而示威。但現在的反全球化運動卻是在全球化受益最多的發達國家獲得最多的支持。現在，全球化程度最為徹底的地區，恰恰就是對全球化質疑程度最高的地區。

資料二：全球化的支持者提出了許多的事實與各種數據，說明全球化如何推動經濟與社會的進步，增加人類的福祉的結論。但也看到全球化之下，的確存在著嚴重、甚至不斷加劇的發展不平衡及貧富分化。這不僅存在於人與人之間，也存在於一國之內的不同區域之間，以及不同國家之間。

- (1)根據資料一，擷取一段說明「反經濟全球化」的現象。(40字內)
- (2)根據資料及所學資訊，判斷哪一因素促進了全球化的進行？(A)交通革新 (B)工業革命 (C)規模經濟 (D)區域專業化
- (3)根據資料及所學資訊，下列何項敘述不是造成資料二現象的主因？
(A)已發展國家憑藉掌握資金與技術，在全球化下獲益 (B)跨國環保組織阻止跨國企業擷取大量自然資源，造成熱帶國家無法全力發展經濟 (C)跨國企業、國際性經濟組織成立，助長了跨國企業及強國的經濟入侵，對發展中國家的弱勢產業和弱勢族群不利 (D)國際性經濟組織制訂的貿易規條，未能完全協助貧國脫貧，反而偏重跨國企業和已發展國家的利益，發展中國家面臨不公平的貿易和嚴重剝削

2. 南北戰爭後，加勒比海地區所生產的香蕉已經無法滿足美國對於香蕉的需求，因此香蕉產地擴大至中美洲地區，但是香蕉採收後，為避免香蕉過度成熟，必須以冷藏設備保存，且盡快送至消費者手中。

而美國鐵路企業家——基斯，在哥斯大黎加興建連結首都與港口之間的鐵路後，拿下該鐵道 99 年的經營權與鐵道周圍 80 萬英畝免稅土地種植香蕉，隨後成立聯合果品公司。聯合果品公司在中美洲當地政府的支持下，開闢一座座的香蕉園，並自由使用當地港口設施，憑藉著先進的冷藏設備延緩香蕉成熟；相比之下當地的小蕉農，根本無力與聯合果品公司競爭，只能任由其所產的香蕉被低價收購。

後來聯合果品公司更大量收購土地種植經濟作物，使得中美洲傳統糧食作物——玉米產量減少，不足以供應國內需求，因此糧食仰賴進口，其中有四成的糧食來自美國。中美洲平均一年消費六百萬噸玉米，卻有三百萬噸的玉米仰賴進口。

1951 年瓜地馬拉總統阿本茲，宣布將聯合果品公司在瓜地馬拉大片因巴拿馬病而休耕的土地，約占瓜國可耕地面積的七成，收歸國有後分發予無耕地可耕的貧民，但引起該公司強烈不滿。曾任職於聯合果品公司的美國國務卿杜勒斯於 1954 年策動阿本茲的競爭對手阿馬斯從宏都拉斯入侵，導致阿本茲辭職，落魄的流亡墨西哥。請問：

- (1)文章所述的農業活動類型為何？(A)酪農業 (B)混合農業 (C)熱帶栽培業 (D)商業性穀物農業
- (2)除了香蕉之外，中美洲地區還大量種植哪些農產品，成為該地區的主要經濟作物？(請寫出兩項)
- (3)這些深受聯合果品公司所影響的國家，請寫出兩項其在經濟、國家發展上所面臨的困境。(40字內)

國立臺東高級中學 112 學年度第二學期高二地理科期末考答案卷 113.6.28

考試範圍：地理(三)第 6 章~第 7 章 適用班級：204~207 班 班級：_____座號：_____姓名：_____

二、混合題：16% (每答 2 分)

1.	(1)	
	(2)	
	(3)	
2.	(1)	
	(2)	
	(3)	

答案欄 年 班 _____ 號 姓名：_____

1	C	2	A	3	D	4	B	5	C	6	A	7	D	8	B	9	C	10	D
11	B	12	D	13	C	14	A	15	B	16	D	17	A	18	C	19	B	20	A
21	D	22	C	23	B	24	D	25	A	26	B	27	C	28	D	29	A	30	B
31	A	32	B	33	A	34	C	35	D	36	C	37	B	38	A	39	D	40	C
41	D	42	B																

解答 (1)每逢「G20」開會前，幾乎都有反全球化示威者 (2)A (3)B

解答 (1)C (2)咖啡、可可、橡膠、甘蔗 (3)土地分配不均，掌握在少部分人手裡（大地主制）；資金、技術依賴西方（殖民母國）國家；排擠糧食生產，導致糧食不足；國內政治受外國干預，導致國內局勢不穩